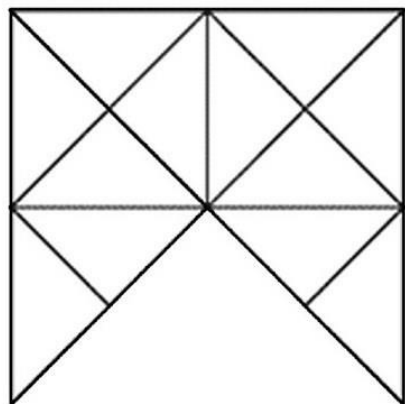


«Сосчитай фигуры». Ребенку дается изоб-

ражение сложной геометрической фигуры, **Задачи на внимание** состоящей из множества деталей, он должен **и сообразительность**. сосчитать, сколько в фигуре треугольников,

прямоугольников, квадратов



- Сколько лап у двух медвежат?


- У семи братьев по одной сестре. Сколько всего сестёр? (Одна)

- У бабушки Даши внучка Маша, кот Пушок и собака Дружок. Сколько всего внуков у бабушки?

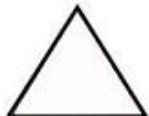
- Над рекой летели птицы: голубь, щука, 2 синицы, 2 стрижа и 5 угрей. Сколько птиц? Ответь скорей!

**Сосчитай и запиши сколько всего:**


силы. Сколько свечей осталось? (Остались 2 свечи которые погасли, остальные сгорели)




—




—



—



—



- В корзине три яблока. Как поделить их между тремя детьми так, чтобы одно яблоко осталось в корзине? ( Отдать одно яблоко вместе с корзиной).

- На берёзе три толстых ветки, на каждой толстой ветке по три тоненьких веточки. На каждой тоненькой веточке по одному яблочку. Сколько всего яблочек?

МДОУ «Детский сад


комбинированного вида

№28 «Золотой ключик»

- Сколько ушей у трёх мышей?

## Веселая математика дома

- Горело



Подготовила воспитатель: Верховцева Н.А.

Нарисуй картинку, соединив все цифры по порядку



Соедини картинку с правильным ответом

ОТВЕТОМ



5+4



3+2



5+3



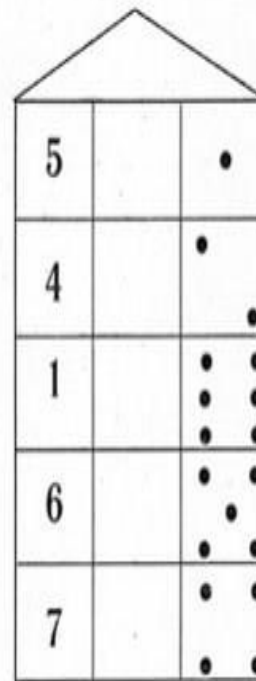
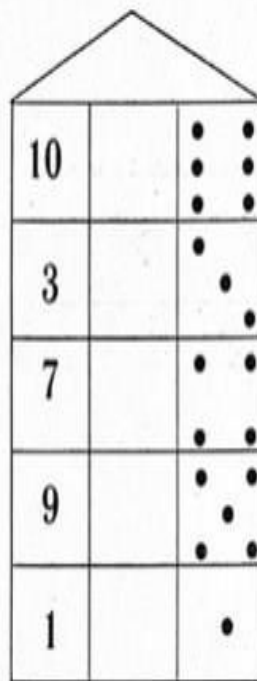
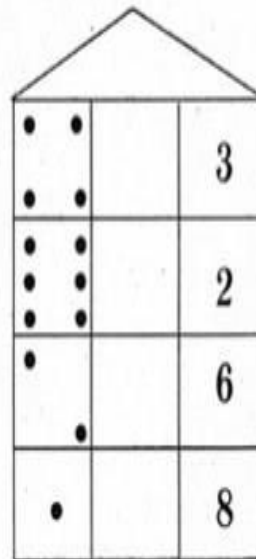
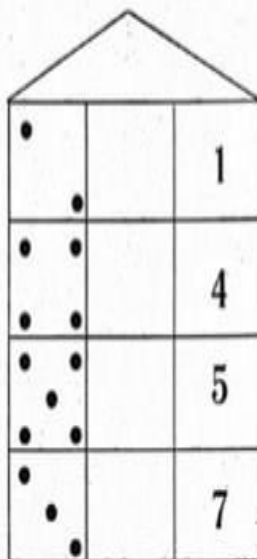
5+2



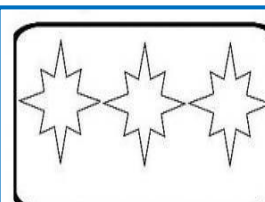
6+2

### Сравниваем числа

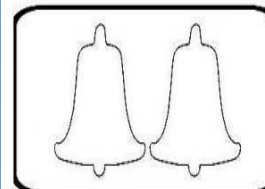
Расставь знаки: «>» — «больше», «<» — «меньше», «=» — «равно».




Сосчитай предметы, раскрась, соответствующую количеству предметов цифру



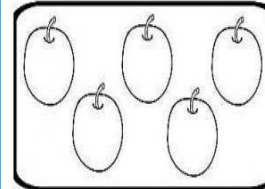
5 3 4




2 3 1



1 2 4



4 5 2



3 4 5